





Continuité pédagogique du 25 Octobre au 29 Octobre

Lors du retour des élèves aux collèges suite au confinement nous avons travaillé sur l'E.P.I. l'Igname.

Vous devez compléter les documents ci dessous concernant la réalisation du champs d'ignames :

(Vous pouvez demander à vos parents de vous aider pour expliquer le but de chaque tâches et les outils qu'ils utilisent habituellement pour réaliser ces tâches)

Photo	Identification de la photo	Expliquer la tâches réalisées et le but	Décrire les outils utilisés	Indiquer les mesures de sécurité mise en place : E.P.I. et prévention collective
	Réalisation du sillon	<p>.....</p> <p>.....</p> <p>.....</p> <p>.....</p> <p>.....</p> <p>.....</p> <p>.....</p>	<p>.....</p> <p>.....</p> <p>.....</p> <p>.....</p> <p>.....</p> <p>.....</p> <p>.....</p>	<p>.....</p> <p>.....</p> <p>.....</p> <p>.....</p> <p>.....</p> <p>.....</p> <p>.....</p>
	Répartition des ignames	<p>.....</p> <p>.....</p> <p>.....</p> <p>.....</p> <p>.....</p> <p>.....</p> <p>.....</p>	<p>.....</p> <p>.....</p> <p>.....</p> <p>.....</p> <p>.....</p> <p>.....</p> <p>.....</p>	<p>.....</p> <p>.....</p> <p>.....</p> <p>.....</p> <p>.....</p> <p>.....</p> <p>.....</p>
	Plantation des ignames	<p>.....</p> <p>.....</p> <p>.....</p> <p>.....</p> <p>.....</p> <p>.....</p> <p>.....</p>	<p>.....</p> <p>.....</p> <p>.....</p> <p>.....</p> <p>.....</p> <p>.....</p> <p>.....</p>	<p>.....</p> <p>.....</p> <p>.....</p> <p>.....</p> <p>.....</p> <p>.....</p> <p>.....</p>
	Paillage	<p>.....</p> <p>.....</p> <p>.....</p> <p>.....</p> <p>.....</p> <p>.....</p> <p>.....</p>	<p>.....</p> <p>.....</p> <p>.....</p> <p>.....</p> <p>.....</p> <p>.....</p> <p>.....</p>	<p>.....</p> <p>.....</p> <p>.....</p> <p>.....</p> <p>.....</p> <p>.....</p> <p>.....</p>

Continuité pédagogique du 25 Octobre au 29 Octobre

Remplir les prochaines tâches à réaliser sur le champs d'igname avant la récolte :

Dessin à réaliser pour illustrer la tâches	Expliquer la tâche réalisée et le but	Décrire les outils utilisés	Indiquer les mesures de sécurité mise en place : E.P.I. et prévention collective

Pour réaliser le sillon le collège a commandé **10 m3** de terre végétale qu'il à fallu étaler à l'aide de brouette.

- la pelle utilisée pour remplir la brouette contient **3 litres** de terre.
- La brouette peut contenir **60 litres** de terre.

Vous devez calculer le nombre totales de pelles et de brouettes qu'il a fallu remplir pour déplacer tout le tas de terre :

1. Convertir le volume de terre en litre sachant que 1 m3 = 1000 litres :

Volume du tas de terre = **m3** donc le volume en litres sera de **litres**

2. Calculer le nombre de pelles à remplir pour déplacer le tas de terre :

Nombre de pelles = Volume du tas / volume de l'outils (les deux volumes doivent être dans les mêmes unités)

Nombre de pelles = = **pelles**

3. Calculer le nombre de brouettes qu'il a fallu remplir pour déplacer le tas de terre :

Nombre de brouettes = Volume du tas / volume de l'outils (les deux volumes doivent être dans les mêmes unités)

Nombre de brouettes = = **brouettes**

4. Sur les photos on peut voir que les personnes ne portent pas toujours leur masque. Quelles sont les règles de distanciation dans ce cas de figure ?

.....