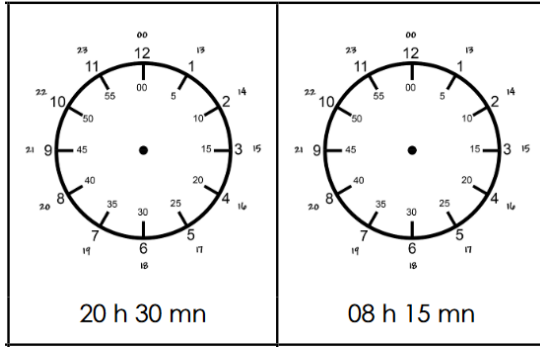


Lundi

Place les aiguilles sur les horloges.

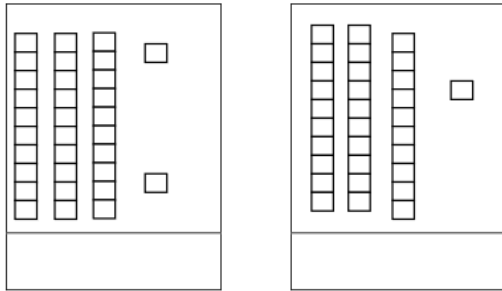


Relie les nombres.

- | | |
|------|------------------|
| 41 • | • quarante-cinq |
| 14 • | • quarante et un |
| 46 • | • quatorze |
| 4 • | • quarante-six |
| 40 • | • quarante-deux |
| 42 • | • quatre |
| 45 • | • quarante |
| 43 • | • quarante-trois |

Mardi

Ecris les nombres.

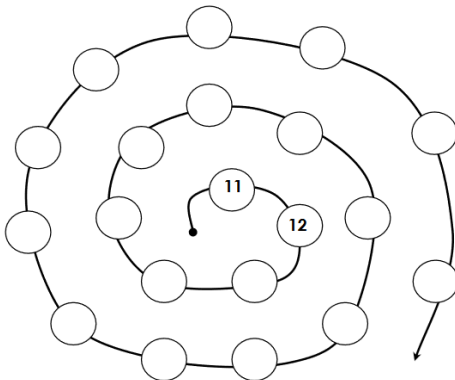


Le nombre avant/ le nombre après.

avant	le nombre	après
	11	
	14	
	18	
	15	

Mercredi

Continue.




Trouve à quel moment de la journée correspondent les heures.

07:15	09:24	13:56
matin	matin	matin
après-midi	après-midi	après-midi
03:12	22:54	03:41
matin	matin	matin
après-midi	après-midi	après-midi

Jeudi

Ecris la quantité et mets le signe < ou >

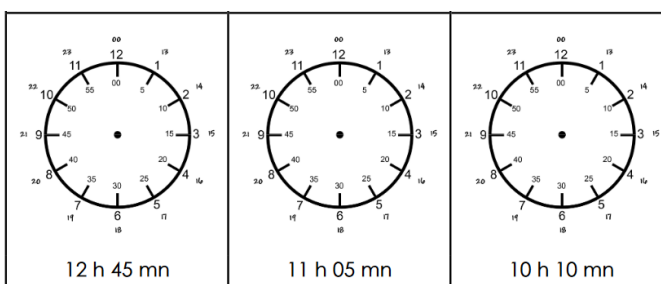


Ecris le nombre suivant

- 11 ⇨ _____ 18 ⇨ _____
- 9 ⇨ _____ 12 ⇨ _____

Vendredi





















Place les aiguilles sur les horloges.























Ecris le nombre suivant.

- 16 ⇨ _____ 15 ⇨ _____
- 17 ⇨ _____ 14 ⇨ _____

Ecris l'emplacement de chaque fruit dans le quadrillage Ex : Le raisin est en D2.

	A	B	C	D	E	F	G	H	I	J
1										
2										
3										
4										
5										
6										
7										
8										
9										
10										

Complète le tableau.

 D 2			
			
			
			
			

Calcule.

	dizaine	unité
	1	5
+		3
<hr/>		

15 + 3 = ...

	dizaine	unité
	1	4
+	1	5
<hr/>		

14 + 15 = ...

	dizaine	unité
	1	2
+	3	3
<hr/>		

12 + 13 = ...

	dizaine	unité
	2	6
+		2
<hr/>		

26 + 2 = ...

	dizaine	unité
	2	3
+	1	4
<hr/>		

23 + 14 = ...

	dizaine	unité
	2	5
+	1	3
<hr/>		

25 + 13 = ...